



Trois maisons qui content Le Bord de Meuse

1. Indique le sens du courant entre Dinant et Namur.

2. A l'aide du schéma ci-contre explique le fonctionnement d'une écluse :

Etape 1:

Etape 2:

Etape 3:

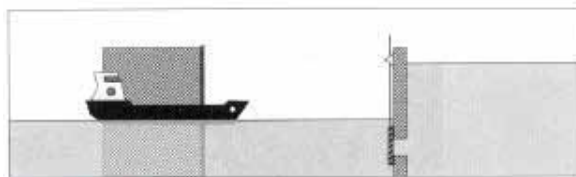
Etape 4:

3. Mais comment font les poissons?


De l'autre côté du barrage, tu découvriras une échelle à poissons.
Fais en un dessin au verso de ta fiche.



1ère étape



2ème étape



3ème étape



4ème étape



Trois maisons qui content La Maison de Monsieur Sax

1. Adolphe Sax est né à en et est mort à en

2. Peux tu citer le nom des 7 saxophones toujours utilisés aujourd'hui?
Pour t'aider, ils correspondent aux 7 totems de la rue Sax.

A.

B.

C.

D.

E.

F.

G.

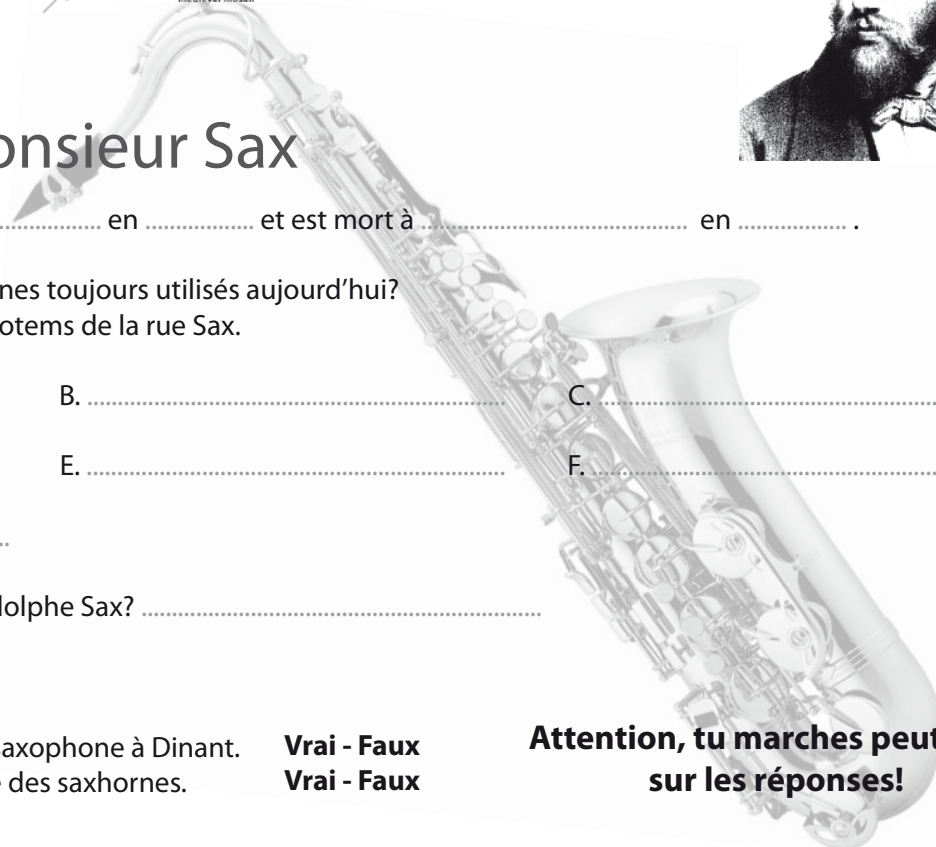
3. Peux-tu citer 1 autre invention d'Adolphe Sax?

4. Vrai ou faux ?

Adolphe Sax a fabriqué son premier saxophone à Dinant.
Adolphe Sax a aussi inventé la famille des saxhorns.

Vrai - Faux
Vrai - Faux

**Attention, tu marches peut-être
sur les réponses!**





Trois maisons qui content Bouvignes-sur-Meuse

1. La fortification de Crèvecoeur se trouve sur les hauteurs de la ville. A ton avis, pour quelle raison?

2. Que veulent dire les initiales MPMM?

M

P

M

M

3. A l'aide de flèches, resitue sur la photo tous les mots soulignés.

Le pignon de l'ancienne Maison espagnole est constitué de 2 niveaux. Il est surmonté d'un fronton à volutes (spirales) percé de 3 fenêtres rondes appelées œil de bœuf. Des ancrs en forme de « S » renforcent la construction. A gauche se dresse une tourelle bordée de pierres d'angle.



Trois maisons qui content La Collégiale de Dinant

NB : Pour respecter ce lieu, ne cours pas, ne crie pas!

1. Trouve le pilier où l'on peut lire les traces des inondations de Dinant et inscris les 3 dates dans l'ordre chronologique.

Date 1: Date 2: Date 3:

2. Trouve le gisant*. Peux-tu lire l'inscription gravée et compléter les parties manquantes ci-dessous ?

ICI GERAR KI.FONDA.CEST.ATEL.MORT.L'AN DE GRAS L.VI.XIII.JOR.EN.SEPTEBR.PRIES.POR.LVI.

3. En quelle année cet édifice a-t-il été détruit et par quel événement ?

Date: Événement:

4. Le travail du cuivre fait la réputation de Dinant. Tu peux admirer dans le chœur de la collégiale (chandelier, autel, plaque sculptée...), ce travail s'appelle (coche la bonne réponse):

☐ La ferronnerie ☐ La dinanderie ☐ La carrosserie

*Un gisant est une sculpture funéraire représentant un personnage couché, vivant ou endormi.



Trois maisons qui content

La Maison de la Pataphonie

1. Qu'est-ce que la Lutherie Sauvage?

.....

2. Comment nomme-t-on le plus gros saxophone de cette famille d'instruments?

.....

3. Quel est le nom de cet instrument qui ressemble à un piano?

.....

4. Quels sont les noms des différentes provinces de la Pataphonie?

.....

5. Comment nomme-t-on le guide en Pataphonie?

.....

